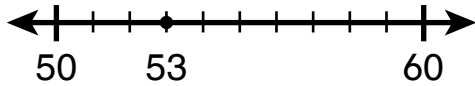


Práctica adicional 3-7

Redondear números enteros a la decena más cercana

¡Revisemos! Puedes usar una recta numérica para **redondear** 53 a la decena más cercana.



¿Cuáles son las decenas más cercanas entre las que está 53?

50 y 60

53 está más cerca de 50 que de 60.

A la decena más cercana, 53 se redondea a 50.

Si el número está a la mitad, redondea a la decena mayor.

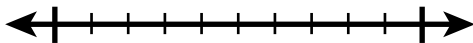


ACTIVIDAD PARA EL HOGAR
Coloque otro número entre 50 y 60 en la recta numérica de la izquierda. Pida a su niño(a) que le explique cómo redondear el número a la decena más cercana.



Completa las oraciones para redondear cada número a la decena más cercana. Primero, muestra en la recta las decenas y el número que redondeas.

1. 72

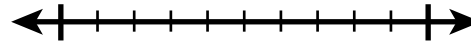


72 está entre _____ y _____.

72 está más cerca de _____ que de _____.

Por tanto, 72 se redondea a _____.

2. 17




17 está entre _____ y _____.

17 está más cerca de _____ que de _____.

Por tanto, 17 se redondea a _____.

3. 45

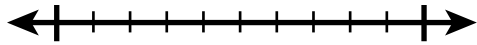


45 está entre _____ y _____.

Dado que 45 está a la mitad entre 40 y 50, el número 45 se redondea a _____.



4. Aplicar las matemáticas María nada durante 36 minutos. Quiere saber aproximadamente cuántos minutos nada. Muestra cómo redondear 36 a la decena más cercana en la recta numérica. Luego, completa la oración.



36 redondeado a la decena más cercana es _____.

5. Andrés dice que 60 es el número entero mayor que se redondea a 60. ¿Tiene razón? Explica tu razonamiento.

6. Razonamiento de orden superior Teresa dice que tiene 34 lápices de colores en su caja de arte. Su amiga Jazmín tiene 58 lápices de colores en su caja. ¿Aproximadamente cuántos lápices de colores más que Teresa tiene Jazmín? Redondea como ayuda para decidirlo. Explica tu solución.

7. Examen de práctica ¿Qué números se redondean a 90 cuando se redondean a la decena más cercana? Selecciona todos los que apliquen. 2.SNO.1.4

- 82
- 85
- 93
- 95

